

PENERAPAN FUNGSI NON- LINIER DALAM ANALISIS EKONOMI

PENDAHULUAN

- Hubungan fungsional antara variabel-variabel ekonomi dan bisnis tidak selalu berbentuk linier, tapi juga nonlinier.
- Artinya perubahan suatu variabel terikat (dependent) yang diakibatkan perubahan variabel bebas (independent) tidak tetap.

FUNGSI NON-LINIER

Fungsi Kuadrat

$$Y = f(X) = aX^2 + bX + c$$

Dimana : Y = Variabel Terikat

X = Variabel Bebas

a, b dan c = Konstanta dan $a \neq 0$

Koordinat titik puncak

$$\text{Titik Puncak} = \left\{ \frac{-b}{2a}, \frac{-(b^2 - 4ac)}{4a} \right\}$$

Akar-akar Kuadrat

$$X_{12} = \frac{-b \pm \sqrt{b^2 - 4ac}}{2a}$$

Contoh

Gambarkanlah kurva parabola dari fungsi kuadrat :

$$Y = X^2 - 8x + 12$$

$$\begin{aligned}\text{Koordinat titik puncak} &= \left\{ \frac{-b}{2a}, \frac{-(b^2 - 4ac)}{4a} \right\} \\ &= \left\{ \frac{-8}{2}, \frac{-(64 - 48)}{4} \right\} \\ &= (4, -4)\end{aligned}$$

Untuk $X = 0$, maka $Y = 12$

Titik potong sumbu X adalah $(0, 12)$

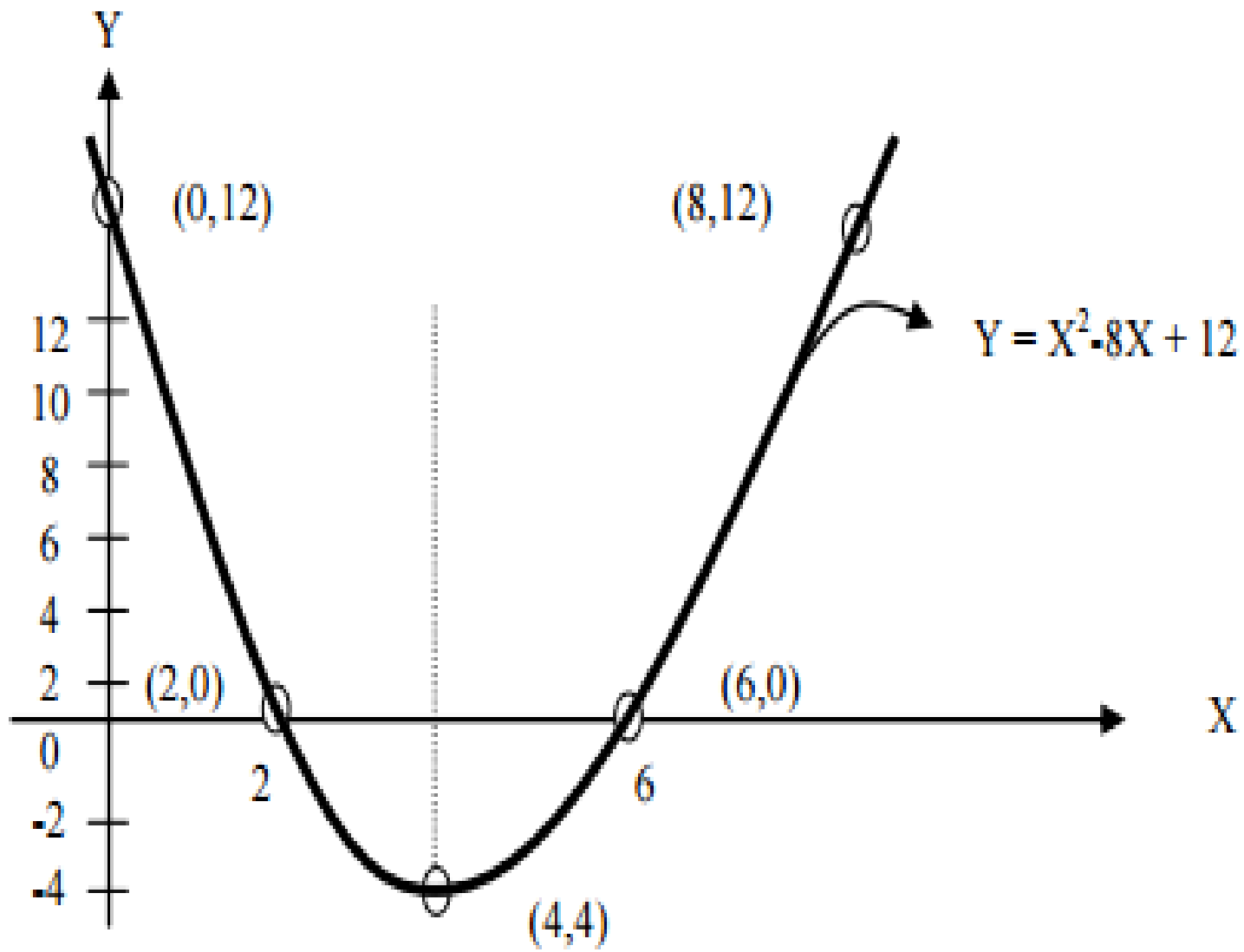
Untuk $Y = 0$, maka $X^2 - 8X + 12 = 0$

$$X_{1,2} = \frac{8 \pm \sqrt{64 - 48}}{2} = \frac{8 \pm \sqrt{16}}{2}$$

$$X_1 = \frac{8 + 4}{2} = 6$$

$$X_2 = \frac{8 - 4}{2} = 2$$

Titik potong sumbu X adalah (2,0) dan (6,0)



Parabola Horizontal

Fungsi Kuadrat

$$X = f(Y) = aY^2 + bY + c$$

Dimana : $X =$ Variabel Terikat

$Y =$ Variabel Bebas

a, b dan $c =$ Konstanta dan $a \neq 0$

Koordinat titik puncak

$$\|X_p, Y_p\| = \left\{ \frac{-\|b^2 - 4ac\| - b}{4a}, \frac{-b}{2a} \right\}$$

Akar-akar Kuadrat

$$\|Y_1, Y_2\| = \frac{-b \pm \sqrt{b^2 - 4ac}}{2a}$$

Terapan Fungsi Non-Linier

Bentuk Umum Fungsi Permintaan Kuadrat :

$$P = c + bQ - aQ^2$$

Dimana : P = Harga Produk

Q = Jumlah Produk yang diminta

a , b , dan c konstanta, dan $a \neq 0$

Fungsi Penawaran

Bentuk Umum Fungsi Penawaran Kuadrat :

$$P = c + bQ + aQ^2$$

Dimana : P = Harga Produk

Q = Jumlah Produk yang diminta

a , b , dan c konstanta, dan $a \neq 0$

Keseimbangan Pasar

Syarat keseimbangan pasar:

$$Q_d = Q_s$$

$$P_d = P_s$$

Analisa Keseimbangan Pasar

Keseimbangan pasar – Model linear

Asumsi-1: Keseimbangan pasar terjadi jika “ekses demand” = 0 atau $(Q_d - Q_s = 0)$

Asumsi-2: Q_d = jumlah permintaan adalah fungsi linear P (harga). Jika harga naik, maka Q_d turun.

Asumsi-3: Q_s = jumlah penawaran adalah fungsi linear P. Jika harga naik, maka Q_s juga naik, dengan syarat tidak ada jlh yang ditawarkan sebelum harga lebih tinggi dari nol.

Bagaimana menentukan nilai keseimbangan pada fungsi kuadratik ?

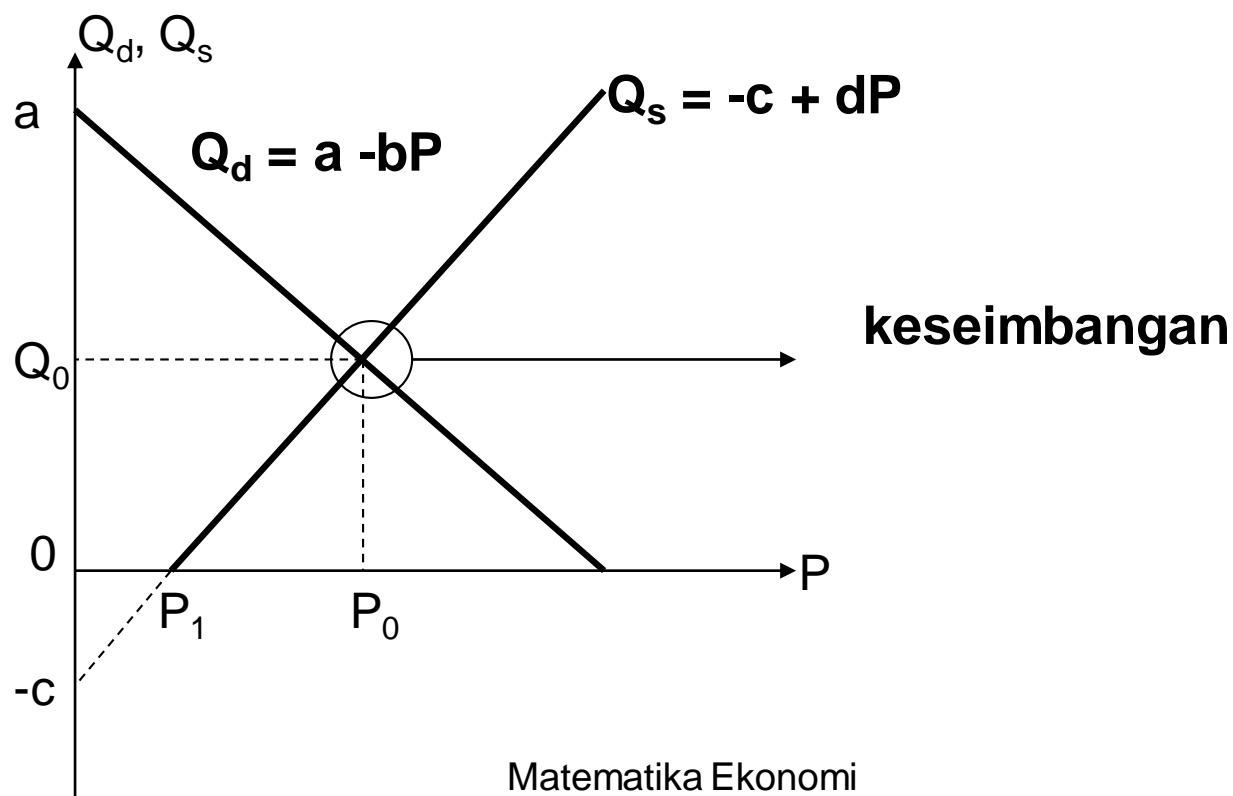
Dalam pernyataan matematis, keseimbangan terjadi pada saat:

$$Q_d = Q_s$$

$$Q_d = a - bP, \quad \text{slope } (-) \quad (1)$$

$$Q_s = -a + bP, \quad \text{slope } (+) \quad (2)$$

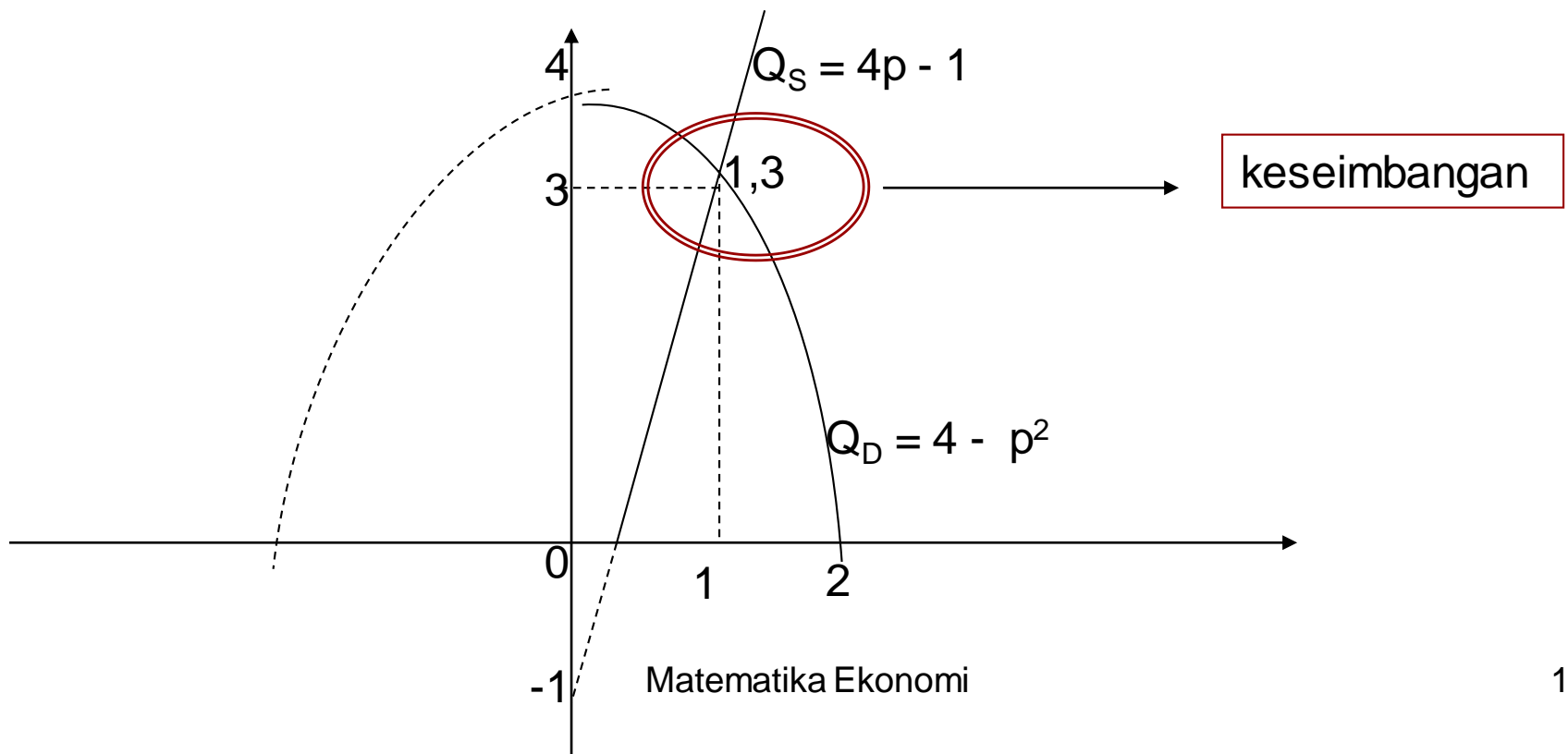
Gambarnya sbb:



Kasus lain, keseimbangan dapat dilihat sbb:

$$P_d = 4 - Q^2 \text{ dan } P_s = 4Q - 1$$

Jika tidak ada pembatasan misalnya, berlaku dalam ekonomi, maka titik potong pada (1, 3), dan (-5, -21) tetapi karena batasan hanya pada kuadran I (daerah positif) maka keseimbangan pada (1, 3)}



Keseimbangan pasar (lanjutan)

Pada nilai Q dan p berapa terjadi keseimbangan permintaan dan penawaran dari suatu komoditi tertentu jika:

$$Q_d = 16 - P^2, \quad (\text{Permintaan})$$

$$Q_s = 2p^2 - 4p \quad (\text{penawaran})$$

Gambarkan grafiknya

Penjelasan

Pada saat keseimbangan maka $Q_d = Q_s$

$$16 - p^2 = 2p^2 - 4p$$

$$3p^2 - 4p - 16 = 0$$

Ingat fungsi polinom derajat 2 atau $n = 2$
dengan bentuk umum: $ax^2 + bx + c$

Koefisien $a = 3$, $b = -4$, dan $c = -16$

$$p = \frac{(-b) \pm (b^2 - 4ac)^{1/2}}{2a} = \frac{4 \pm (16 + 192)^{1/2}}{6} = 3.1 (+)$$

$$Q_d = 16 - p^2 = 16 - (3.1)^2 = 6.4$$

Jadi keseimbangan tercapai pada Jlh komoditas 6.4 dan harga 3.1. Atau $(Q, p) = (6.4, 3.1)$

Grafik:

Fungsi Permintaan: $Q_d = 16 - p^2$

a. Titik potong dengan sb Q $\rightarrow p = 0$; $Q = 16$, $(16,0)$

b. Titik potong dengan sb p $\rightarrow Q = 0$; $16 - p^2 = 0$

$$(p - 4)(p + 4) \rightarrow p - 4 = 0, p = 4, \text{ ttk } (0, 4)$$

$$p + 4 = 0, p = -4, \text{ ttk } (0, -4)$$

c. Titik maks/min: (Q,p)

$$Q = (-b/2a) = 0/-2 = 0$$

$$p = (b^2 - 4ac)/(-4a) = 0 - 4(-1)(16)/(-4)(-1) = 16$$

atau pada titik $(0, 16)$

Grafik:

Fungsi penawaran

$$Q_s = 2p^2 - 4p$$

a. Titik potong dengan sb Q $\rightarrow p = 0; Q = 0, (0,0)$

b. Titik potong dengan sb p $\rightarrow Q = 0; 2p^2 - 4p = 0$

Atau $2p(p - 2) = 0; 2p = 0; p = 0; \text{ttk pot } (0, 0)$

$(p - 2) = 0; p = 2; \text{ttk pot } (0, 2)$

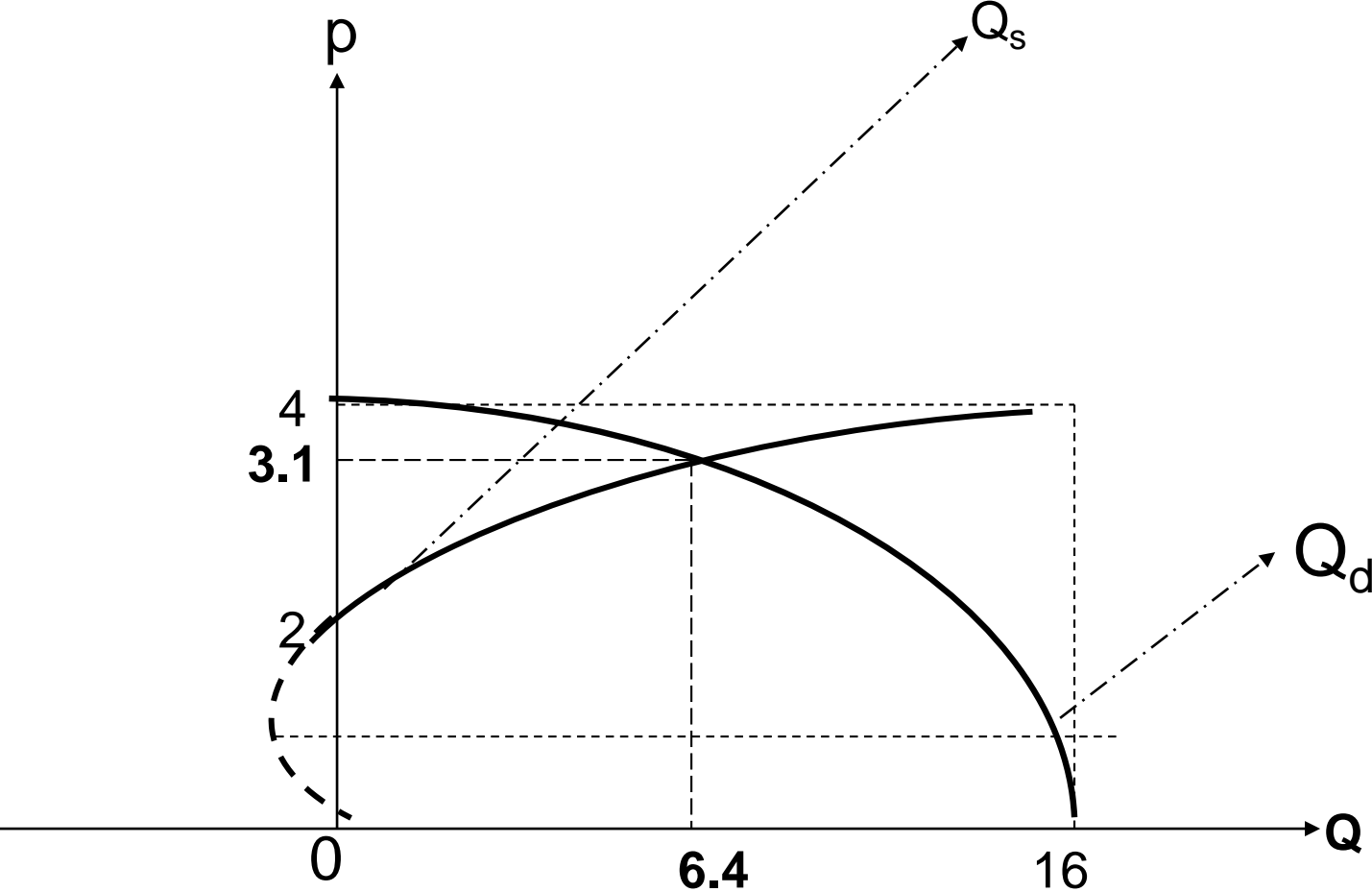
c. Titik maks/min: (Q,p)

$$Q = (-b/2a) = 4/4 = 1$$

$$p = (b^2 - 4ac)/(-4a) = (-4)^2 - 4(2)(0)/(-4)(2) = 2$$

atau pada titik (1, 2)

Grafik:



Latihan

1. Gambarkanlah kurva parabola dari fungsi kuadrat :

$$Y = 3 + 2X - X^2$$

2. Carilah harga dan jumlah keseimbangan pasar dari fungsi permintaan dan fungsi penawaran berikut ini!

$$Q_d = 9 - P^2$$

$$Q_s = P^2 + 2P - 3$$